

Eindtoets Basisonderwijs

Eindtoets 2001 voor ouders

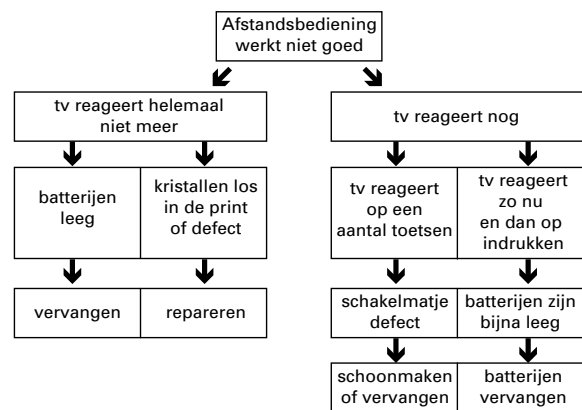
De **Citogroep** heeft dit opgavenboekje gemaakt om ouders te informeren over de inhoud van de Eindtoets Basisonderwijs. De opgaven zijn eerder gepubliceerd in de Eindtoets Basisonderwijs 2000. De scholen zijn vrij om van dit boekje kopieën te maken.

Informatieverwerking

1 "Mam, mag ik iets gezonds op mijn brood?"
 2 Pieter en Merel zitten aan de eettafel. Het is
 3 dinsdagavond, dus krijgen ze brood. Op die dag
 4 gaat hun moeder namelijk aerobics en voor al
 5 dat gehups wil ze niet te veel eten. Dat geldt
 6 dan ook maar meteen voor de rest van het
 7 gezin, want anders kan ze zich niet inhouden,
 8 zegt ze altijd. "Jongens, jullie weten het hè?"
 9 begint ze en haar kinderen vullen in koor aan:
 10 "Niet alleen zoetigheid op je brood!" Merel en
 11 haar broer geven elkaar een schop onder de
 12 tafel en een vette knipoog. Eensgezind schuiven
 13 ze al het zoete broodbeleg naar de verste hoek
 14 van de eettafel. "Mam, mag ik iets gezonds
 15 op mijn brood?" zegt Pieter, terwijl hij zijn serieuze
 16 blik opzet. "Pardon," zegt moeder, "jij bent toch
 17 diezelfde zoon die altijd zit te zeuren om bruine
 18 basterdsuiker?" "Dat klopt," zegt Pieter, "maar
 19 ik heb op school gehoord dat dat niet zo goed is
 20 voor je tanden. Dus vanaf nu eet ik alleen nog
 21 maar gezond beleg." Hun moeder gaat er maar
 22 eens even voor zitten. "Zo en wat voor beleg
 23 mag dat dan wel wezen?" vraagt ze ongelovig.
 24 "O, er zit van alles in hoor mam," zegt Pieter.
 25 "Eiwitten en koolhydraten," noemt Merel. "En
 26 geen cholesterol," voegt Pieter toe. Dan lopen
 27 ze samen naar de keuken en komen terug met
 28 een grote pot pindakaas, die ze midden op tafel
 29 zetten. Hun moeder kijkt voor de zekerheid nog
 30 even op het etiket van de pot, maar het staat er
 31 inderdaad. "Nou," zegt ze, "smeer er voor mij
 32 dan ook maar één." Sinds die tijd beweert
 33 moeder zelfs dat het aerobics er een stuk beter
 34 door gaat ...



- 4 Evelien wil de afstandsbediening van de televisie gebruiken. Ze kan de televisie wel op andere zenders zetten. Maar het geluid harder of zachter zetten, lukt niet meer. Evelien kijkt in de gebruiksaanwijzing van de afstandsbediening. Daar vindt ze het volgende schema.



- 1 Lees: "Mam ... altijd." (r. 1 t/m 8)
 Met welke bedoeling is dit stukje vooral geschreven?
 Om duidelijk te maken ...
- A dat moeder er moeite mee heeft, om niet te veel te eten.
 B dat moeder op dinsdagavond naar aerobic gaat.
 C waarom de familie op dinsdagavond brood eet.
 D waarom Pieter iets gezonds op zijn brood wil.

- 2 Lees: "Mam ... zitten." (r. 14 t/m 22)
 Wat kun je over moeder zeggen?

- A Zij is boos.
 B Zij is geschrokken.
 C Zij is opgelucht.
 D Zij is verbaasd.

- 3 Lees: "Dat klopt," zegt Pieter, ... (r. 18)
 Wat klopt er volgens Pieter?


- A Dat hij altijd zeurde over bruine basterdsuiker op zijn brood.
 B Dat hij voortaan geen zoet broodbeleg meer op brood zou nemen.
 C Dat moeder geen zoet broodbeleg meer hoeft te kopen.
 D Dat zoet broodbeleg slecht is voor de tanden en kiezen.

Wat moet Evelien volgens dit schema doen?

- A Ze moet de batterijen vervangen.
 B Ze moet de print laten repareren.
 C Ze moet de toetsen beter indrukken.
 D Ze moet het schakelmatje schoonmaken of vervangen.

5 Waar zal deze tekening waarschijnlijk staan?

Tekening uit het boek: IJsselmeer



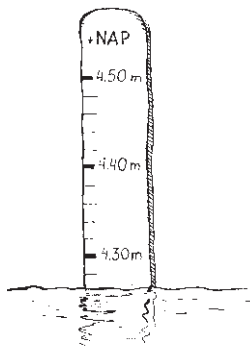
Het monster van de Zuiderzee

Inhoudsopgave van het boek: IJsselmeer

- Inleiding
- 1 IJsselmeer en Zuiderzee ← A
- 2 Oude verhalen over de Zuiderzee ← B
- 3 Dierenwereld in het water ← C
- 4 Mens en zee; mens en meer
- 5 Dijkbouw en inpoldering
- Register en lijst van afbeeldingen ← D

Rekenen

6



Hoe hoog staat het water hier?

- A 4 m en 10 cm
- B 4 m en 26 cm
- C 4 m en 28 cm
- D 4 m en 32 cm

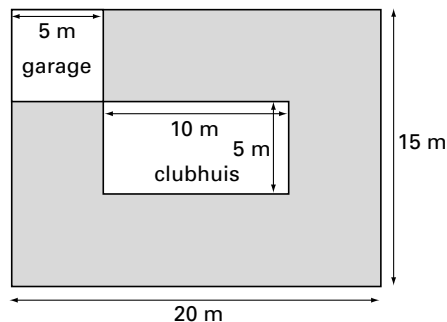
7



Hoeveel liter is de inhoud van deze fles?

- A $7\frac{1}{2}$ liter
- B $\frac{3}{4}$ liter
- C $7\frac{5}{100}$ liter
- D $\frac{75}{1000}$ liter

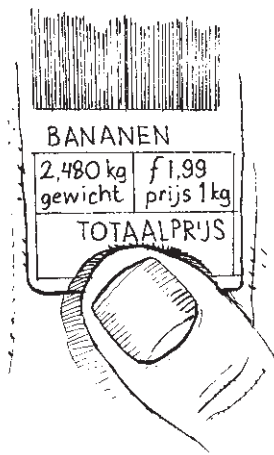
8



Op een stuk grond zijn een clubhuis en een garage gebouwd. Het clubhuis en de garage zijn klaar. Het grijze gedeelte wordt bestraat. Hoeveel m² wordt bestraat?

- A 45 m²
- B 60 m²
- C 225 m²
- D 285 m²

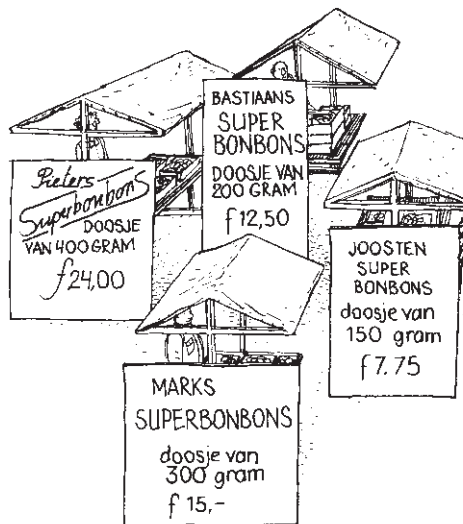
9



Jelte heeft bananen gekocht. Hoeveel is de totaalprijs ongeveer?

- A f 2,50
- B f 4,-
- C f 5,-
- D f 6,-

10



Bij vier marktkramen worden Superbonbons verkocht.

Bij wie zijn de bonbons naar verhouding het goedkoopst?

- A Bij Pieters
- B Bij Bastiaans
- C Bij Joosten
- D Bij Marks

Taal

Irene van Holland en Ada de Wolf zijn 12 jaar en wonen in Wadoog. Ze zijn heel boos op hun gemeentebestuur. Daarom schrijven ze onderstaand stukje en hopen dat de plaatselijke krant het op wil nemen. Ze moeten het nog overlezen en misschien hier en daar verbeteren.

1 Beste buurtgenoten,

2 U weet beslist nog wel dat er op de hoek
3 Appellaan en Perziklaan een landje was met een
4 glijbaan, een klimrek en een zandbak. Alle
5 kinderen vonden het leuk om daar te spelen. Maar
6 een paar jaar geleden is de glijbaan weggehaald,
7 omdat hij ging doorroesten. Maar er kwam niets
8 voor in de plaats.
9 Daarna kwamen er roestige plekken op het
10 klimrek. Dat werd dus ook weggehaald. Daarvoor
11 kwam ook weer niets in de plaats.
12 Toen was nog alleen de houten zandbak over.
13 Daarin speelden vooral de kleintjes en de
14 ouderen zaten lekker op de rand te kletsen. Maar
15 het hout ging stuk en verleden week is de hele
16 bak weggehaald. We hoorden van de werklieden
17 dat de kuil dichtgegooid zal worden. Dan is er dus
18 niets meer. Dat is toch niet eerlijk? Alle kinderen
19 mopperen. Waarom houden de grote mensen
20 geen rekening met ons? We gaan daarom een
21 actie starten. We vragen alle grote mensen en
22 kinderen uit onze buurt een handtekening te
23 zetten op een lijst. Die lijst willen we het college
24 van burgemeester en wethouders doen toekomen.
25 Bij die lijst doen we dan een brief. Daarin vragen
26 we om weer de speeltoestellen neer te zetten en
27 om een zandbak te maken.
28 We komen spoedig zo gauw mogelijk bij u langs.
29 Groetjes,
30 Irene van Holland
31 Ada de Wolf

11 Wat kunnen Irene en Ada het beste doen met:
starten (r. 21)?


- A Zo laten staan.
- B Vervangen door: doen
- C Vervangen door: maken
- D Vervangen door: ontwikkelen

12 Lees: *Die ... toekomen*. (r. 23, 24)
Wat is een juiste opmerking over deze zin?

- A De informatie erin is onduidelijk.
- B De informatie is overbodig.
- C Het taalgebruik is te eenvoudig.
- D Het taalgebruik past niet bij de rest van het stukje.

13 Als je let op wat Irene en Ada met het stukje willen bereiken, welke zin kunnen ze dan het beste benadrukken (bijvoorbeeld door de zin te onderstrepen)?

- A Maar ... plaats. (r. 5 t/m 8)
- B Daarin ... kletsen. (r. 13, 14)
- C Maar ... weggehaald. (r. 14 t/m 16)
- D We vragen ... lijst. (r. 21 t/m 23)



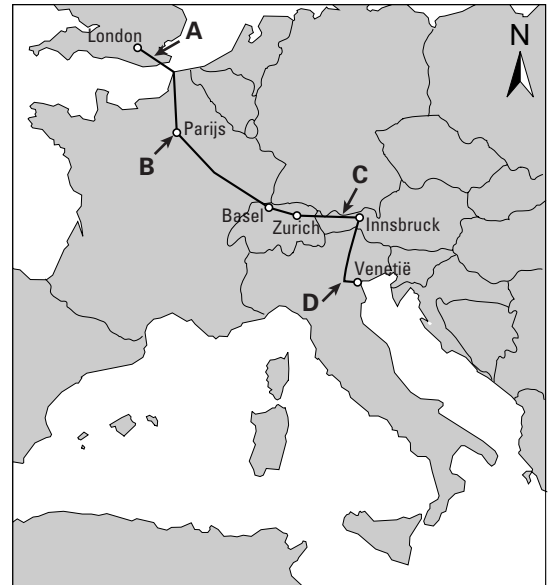
In de volgende opgaven gaat het om de spelling van een aantal woorden. Elke opgave bestaat uit drie zinnen met een schuingedrukt woord. Ga bij elke opgave na of één van de schuingedrukte woorden fout gespeld is. Er is per opgave nooit meer dan één woord fout gespeld.

- 14 A Het schip *lichte* het anker.
B Moeten we ons nu *verklede*n of straks?
C Het *gonsde* van de geruchten.
D Geen fout.

- 15 A Rond het kasteel lag een uitgestrekt *jachtterrein*.
B Het *koffiezetapparaat* is stuk.
C *Werelddierendag* is op 4 oktober.
D Geen fout.

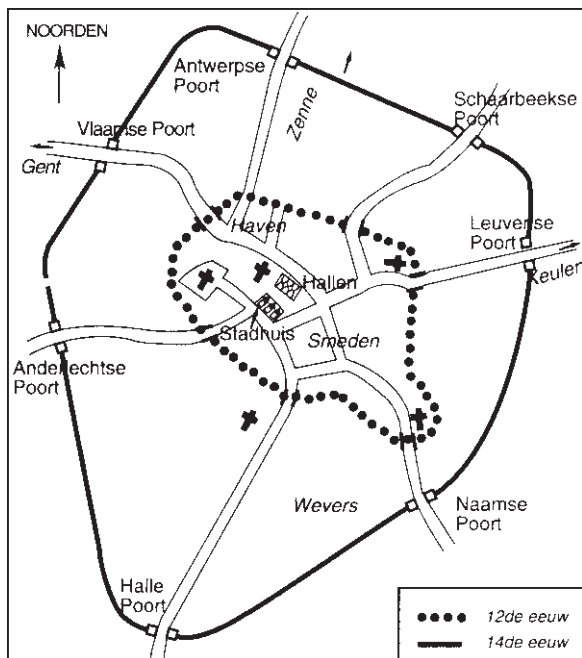
Wereldoriëntatie

16 De Oriënt-Express



De Oriënt-Express rijdt van Londen naar Venetië in Italië. Waar op de route is de foto genomen?

17 Brussel in de Middeleeuwen



Wat stellen de stippellijn (12de eeuw) en de dichte lijn (14de eeuw) op deze kaart voor?

- A fietsroutes
- B snelwegen
- C spoorlijnen
- D stadsmuren

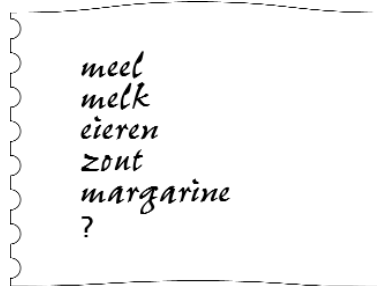
18 Archeoloog aan het werk



Jan van Zalingen is archeoloog. Eén van zijn medewerkers heeft in de bodem prehistorische bekers van gebakken klei gevonden. Aan iedere beker wordt een kaartje vastgemaakt. Wat schrijft Jan van Zalingen op die kaartjes?

- A de naam van de medewerker die de bekers gevonden heeft
- B de naam van de pottenbakker die de bekers gemaakt heeft
- C de plaats waar de bekers gevonden zijn
- D hoeveel geld iedere beker waarschijnlijk waard is

19 Boodschappenlijst



Jantien gaat vanavond pannenkoeken bakken: haar lievelingseten. Op het boodschappenlijstje zie je wat ze allemaal nodig heeft. Jantien wil rekening houden met de maaltijdschijf.

Wat hoort daarom nog op haar boodschappenlijstje?

- A appels
- B kaas
- C spek
- D stroop

20 Straatlantaarns op zonne-energie



De lampen van deze straatlantaarns branden 's avonds op de zonne-energie van overdag.
Hoe kan dat?

- A De elektriciteit gaat door een lange kabel en komt pas 's avonds aan.
- B De elektriciteit laat 's avonds een dynamo draaien.
- C De elektriciteit wordt opgeslagen in een accu.
- D De elektriciteit wordt tot de avond bewaard in roestvrij stalen vaten.

Einde van deze toets

Lijst van goede antwoorden

1	C	11	A
2	D	12	D
3	A	13	D
4	D	14	A
5	B	15	D
6	B	16	C
7	B	17	D
8	C	18	C
9	C	19	A
10	D	20	C